

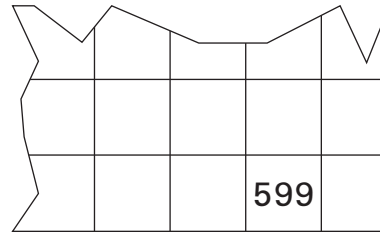
1. Du siehst einen Ausschnitt aus einer Hundertertafel.

a) Wie heißt die Zahl ...

direkt über 599:

links neben 599:

rechts neben 599:

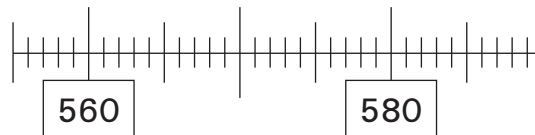


Los geht's!



b) Auf welchem Zahlenstrahl kannst du die Zahl 599 finden?
Kreuze den Zahlenstrahl an und trage die Zahl dort ein.

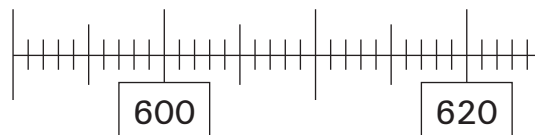
A



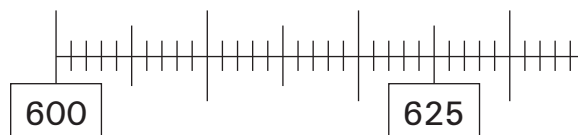
B



C



D



2. Ergänze die fehlenden Zahlen. Notiere die Regel.

Beispiel:

502, 498, 494, **490**, **486**

Regel: **- 4**

a) 616, 619, 622, _____, _____

Regel: _____

b) 80, 40, 20, _____, _____

Regel: _____

